






なまえ ( )

1 いちごの かずを かぞえましょう。(10点)

こたえ

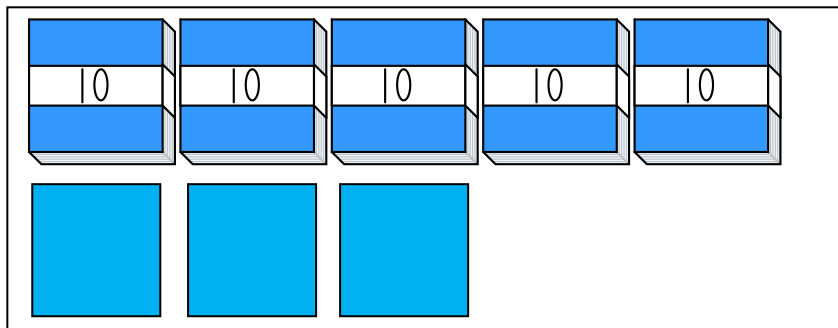
点



10のまとまりを  
つくってかぞえよう。



2 かずを すうじで かきましょう。(10点)



こたえ

3 すうじで かきましょう。(20点×4問)

(1) 十のくらいが 5, 一のくらいが 8 の かず

(2) 10が7つと 1が3つで

(3) 10が3つで

(4) 68は10が

つと、1が

5

9 5

(3) 99より 1 おおきい かず


なまえ (

1 かずを かぞえましょう。

(10点×2問)


点

(1)



こたえ ( )

(2)



こたえ ( )

2 あいている □に かずを かきましょう。(10点×6問)

(1)

98

(2)

108

(3)

116

3 100までの かずで 一のくらいが 8の  
かずを 5こ かきましょう。(20点)

$$\left( \begin{array}{cccc} & & & \\ & & & \\ & & & \\ & & & \end{array} \right)$$


なまえ ( )

1　けいさんを　しましょう。(10点×8問)

(1)  $60 + 40$

(2)  $80 + 5$

点

(3)  $50 + 9$

(4)  $44 + 5$

(5)  $80 - 20$

(6)  $77 - 7$

(7)  $68 - 8$

(8)  $87 - 4$

2　おとこのこが　60人, おんなのこが　40人　います。  
(10点×2問)

(1)　おとこのこと　おんなのこ　あわせて　なん人で  
すか。

し　き ( )

こたえ ( )

(2)　おとこのこと　おんなのこ　どちらが　どれだけ  
おおいですか。






し　き ( )



こたえ  
( )

なまえ ( こたえ )

1 いちごの かずを かぞえましょう。(10点)



こたえ

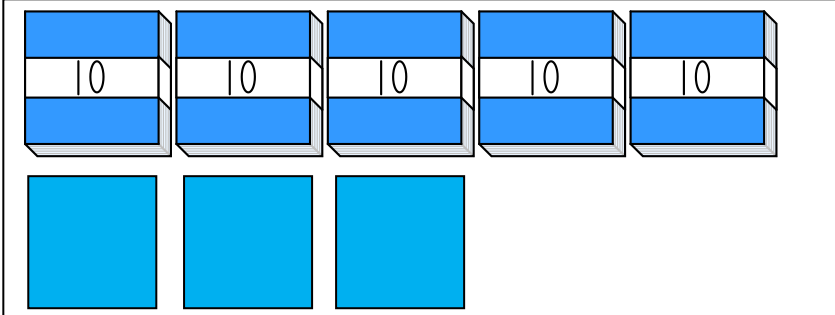
46 こ

点

10のまとまりをつくってかぞえよう。



2 かずを すうじで かきましょう。(10点)



こたえ

53 まい

3 すうじで かきましょう。(20点×4問)

(1) 十のくらいが 5, 一のくらいが 8 の かず

58

(2) 10が7つと 1が3つで

73

(3) 10が3つで

30

(4) 68は10が

6

つと, 1が

8

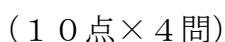
つ

こたえ

(10点×3問)

点

64



42

30

100

9 5

4 8

6 9


1 0 0

なまえ (                      )                      ことえ (                      )

1 かずを かぞえましょう。

(10点×2問)


(1)



ことえ (                      104本                      )

点

(2)



ことえ (                      108まい                      )

2 あいている □に かずを かきましょう。(10点×6問)

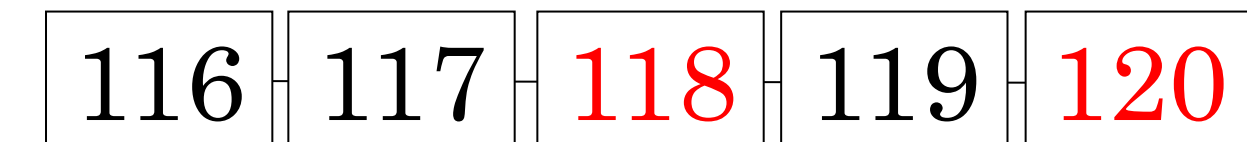
(1)



(2)



(3)



3 100までの かずで 一のくらいが 8のかずを 5こ かきましょう。(20点)

(                      18, 28, 38, 48, 58                      など                      )



なまえ (                      **こたえ**                      )

1　けいさんを　しましう。(10点×8問)

(1)  $60 + 40 = 100$

(2)  $80 + 5 = 85$

点

(3)  $50 + 9 = 59$

(4)  $44 + 5 = 49$

(5)  $80 - 20 = 60$

(6)  $77 - 7 = 70$

(7)  $68 - 8 = 60$

(8)  $87 - 4 = 83$

2　おとこのこが　60人, おんなのこが　40人　います。  
(10点×2問)

(1)　おとこのこと　おんなのこ　あわせて　なん人で  
すか。

し　き (                       $60 + 40 = 100$                       )

こたえ (              **100人**              )

(2)　おとこのこと　おんなのこ　どちらが　どれだけ  
おおいですか。

し　き (                       $60 - 40 = 20$                       )

こたえ (              **おとこのこのほうが、20人おおい。**              )

